



Etnografia

Pytanie 1 [26 pkt]

Wymień mniejszości narodowe i etniczne zamieszkujące w Polsce (wg ustawy).

Mniejszości narodowe	
Mniejszości etniczne	

Pytanie 2 [30 pkt]

Dopasuj pozycje z lewej kolumny do definicji z prawej.

A	Mandylion	Zajmuje się rzeźbieniem w drewnie
B	Płatnerz	Świątynia staroobrzędowców
C	Śparogi	Narzędzie do spulchniania i rozdrabniania roli
D	Brona	„Pisane” przedstawienie świętych w obrządku wschodnim; obraz sakralny
E	Chomąto	Element ozdobny wykończenia szczytu domu drewnianego
F	Snycerz	Człowiek wykonujący zbroje
G	Ikona	Zajmuje się budową i naprawą pieców
H	Zdun	Charyzmatyczny przywódca chasydyzmu, podobno umiał uzdrawiać i czynić cuda
I	Cadyk	Przedstawienie Twarzy Chrystusa
J	Molenna	Rodzaj uprzęży pozwalający na równomierne rozłożenie siły pociągowej zwierzęcia (zwykle konia)

Pytanie 3 [20 pkt]

Scharakteryzuj krótko jedną z wcześniej wymienionych mniejszości. Uwzględnij język, wyznanie, miejsce w Polsce, gdzie dana mniejszość występuje najliczniej, zwyczaje oraz przybliżoną liczebność.



--

Pytanie 4 [24 pkt]

Wyjaśnij poniższe pojęcia

Ikonostas	
Pastor	
Tora	
Bima	
Macewa	
Minaret	
Pop	
Koran	



Architektura



Pytanie 1 [40 pkt]



Opisz, w co najwyżej 50 słowach, budynek przedstawiony na zdjęciu.

**Pytanie 2 [36 pkt]**

Określ style zabytkowych budowli z terenu Polski widocznych na zdjęciach i orientacyjne ramy czasowe, w jakich te budowle mogły powstać, opisz charakterystyczne cechy budowli wznoszonych na terenie Polski w tych stylach i podaj po jednym innym przykładzie obiektów reprezentujących te style.

			
Styl [3 pkt]		Styl [3 pkt]	
Przybliżony czas powstania [4 pkt]		Przybliżony czas powstania [4 pkt]	
Cechy charakterystyczne stylu (4 cechy) [8 pkt]		Cechy charakterystyczne stylu (4 cechy) [8 pkt]	
Przykład innej budowli w tym stylu [3 pkt]		Przykład innej budowli w tym stylu [3 pkt]	



Pytanie 3 [24 pkt]

1. Z podanych poniżej elementów architektonicznych **wybierz 5** i wyjaśnij czym są [15 pkt]:

Barbakan, blanki, machikuly, ambit, absyda, pilaster, attyka, transept,

2. Wymień trzy rodzaje kolumn wg porządku. [9 pkt]

.....



Egzamin na Organizatora Turystyki OM PTTK – 23.02.2016 r.

kod egzaminowanego




Budownictwo drewniane

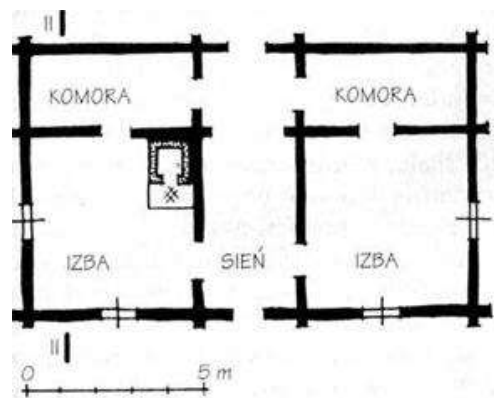
Pytanie 1 [15 pkt]

Test jednokrotnego wyboru:

- a) Pokazana obok konstrukcja przedstawia ścianę o konstrukcji:
- a) na jaskółczy ogon
 - b) na zamek
 - c) sumikowo-łątkowej



- b) Pokazana obok konstrukcja przedstawia chałupę o :
- a) Układzie centralnym
 - b) Układzie podłużnym jednoraktowym
 - c) Układzie podłużnym półoraktowym
 - d) Układzie dwuraktowym



- c) Przedstawiona obok wiatrak to:
- a) Paltrak
 - b) Koźlak
 - c) Szczeciniak
 - d) Holender



**Pytanie 2 [15 pkt]**

Wymień 5 obiektów drewnianych (kościół/cerkwie) znajdujących na liście światowego dziedzictwa UNESCO na terenie Małopolski:

- a.
- b.
- c.
- d.
- e.

Pytanie 3 [20 pkt]

Test jednokrotnego wyboru

- 1) Elementem konstrukcyjnym w konstrukcji krokwiowej dachu nie jest
 - a. łątka
 - b. jętka
 - c. tram
 - d. krokiew
- 2) Ręcznie łupana deska z drewna iglastego, służąca do wykonywania pokrycia dachu to:
 - a. dranica
 - b. lisica
 - c. strzecha
 - d. łątka
- 3) Przestrzeń kościoła lub cerkwi przeznaczona dla duchowieństwa oraz służby liturgicznej to:
 - a. Absyda
 - b. Kruchta
 - c. Nawa
 - d. Prezbiterium
- 4) Sygnaturka to:
 - a. Dowód poświęcenia kościoła – klocek lub płytką z symbolicznym krzyżykiem wmurowana w ściany wewnętrzne kościoła, także malowany na ścianie znak małego krzyża.
 - b. Mała wieża kościelna, w której zazwyczaj umieszcza się najmniejszy z dzwonów, położona jest zazwyczaj nad skrzyżowaniem transeptu z nawą główną.
 - c. Tabliczka – najczęściej bogato zdobiona umieszczona po wschodniej stronie kościoła zawierająca podziękowania dla darczyńców którzy przyczynili się do budowy kościoła.
 - d. Najwyższa, nadwieszona kondygnacja w drewnianych wieżach.
- 5) Pozioma belka przecinająca otwór pomiędzy prezbiterium a nawą, na której umieszczony jest zazwyczaj krucyfiks to:
 - a. Ślemię
 - b. Kalenica
 - c. Belka Tęczowa
 - d. Krokiew

Pytanie 4 [10 pkt]

Dopasuj do siebie odpowiednio hasła:

1. Gliniane wypełnienie drewnianej kratownicy, zwykle tynkowane na biało		a) Szalunek
2. Niskie podcienia otaczające drewniane świątynie		b) Sumiki
3. Poziome bale wsuwane w wyżłobienia w łątkach		c) Podwalina
4. Obicie drewnianej konstrukcji deskami		d) Szachulec
5. Najniższa belka w drewnianej ścianie, oparta na fundamencie		e) Soboty



Pytanie 5 [40 pkt]

1. Opisz budowlę przedstawioną na zdjęciu. Tam, gdzie możliwe zakresł prawidłowe odpowiedzi:



fot. Jerzy Antychowicz

typ budowli: kościół / cerkiew / bożnica / meczet

styl budowli:

konstrukcja:

rodzaj dachu:

zwieńczenie (jeśli tak, to jakie):

układ (wymień części):

pokrycie:

konstrukcja wieży:

UNESCO: tak / nie

miejsowość, w której budowla się znajduje:

inne:

.....
.....
.....
.....
.....



Egzamin na Organizatora Turystyki OM PTTK – 23.02.2016 r.

kod egzaminowanego



PTTK jako organizacja

Pytanie 1 [5 pkt]

Podaj pełną nazwę koła, do którego należysz.

Pytanie 2 [20 pkt]

Wymień prawa i obowiązki członka zwyczajnego PTTK (po 5)

Pytanie 3 [12 pkt]

Podaj w punktach jakie wymagania musi spełniać kandydat na Organizatora Turystyki, aby uzyskać uprawnienie OT.

Pytanie 4 [24 pkt]

Jakie informacje powinny znaleźć się w rozliczeniu imprezy OM PTTK w Warszawie? Podaj przynajmniej sześć.

Pytanie 5 [9 pkt]







Wymień 3 studenckie bazy noclegowe należące do OM PTTK

Pytanie 6 [30 pkt.]

(Zwolnienie dla osób posiadających odznaki TAK/NIE)

1. Podaj pełne nazwy poniższych odznak – bez stopnia. [18 pkt.]:



ODZNAKA	NAZWA
	
	
	
	
	
	

2. Wymień 4 odznaki krajoznawcze, które można zweryfikować w Terenowym Referacie Weryfikacyjnym OM PTTK [12 pkt].

.....



Historia turystyki

Pytanie 1 [24 pkt.]

Opisz krótko historię „Wojny na pędzle”

Geneza:

Strony konfliktu:

Przebieg:

Pytanie 2 [40 pkt.] test jednokrotnego wyboru

Zaznacz prawidłową odpowiedź:

- Najwyższy szczyt który kiedykolwiek znajdował się w granicach Polski
 - Elbrus
 - Rysy
 - Zadni Gerlach
 - Mt. Blanc
- Które tereny górskie, zostały przyłączone do Polski w wyniku II Wojny Światowej
 - Tatry
 - Czarnohora
 - Sudety
 - Beskid Mały
- Kto był pomysłodawcą GSB:
 - Walery Eljasz Radzikowski
 - Kazimierz Sosnowski
 - Władysław Midowicz
 - Mieczysław Orłowicz
- Kto wyznakował Orłą Perć?
 - ks. Walenty Gadowski
 - ks. Józef Stolarczyk
 - ks. Ignacy Czartoryski
 - Hugo Zapałowicz
- Kim był Józef Oppenheim
 - Naczelnikiem TOPR
 - Dyrektorem COTG
 - Lotnikiem
 - Pierwszym prezesem PTTK
- Inicjatorem budowania bacówek PTTK był:
 - Tytus Chałubiński
 - Władysław Midowicz
 - Edmund Massalski
 - Edward Moskała



7. Pierwsza Bacówka PTTK powstała:

- a) na Łomnicy
- b) na Św. krzyżu
- c) na Rycerzowej
- d) na Howerli

8. Kto był założycielem PTK:

- a) Tytus Chałubiński
- b) Stanisław Staszic
- c) ks. Walenty Gadowski
- d) Aleksander Janowski

9. Kim był Wawrzyniec Żuławski:

- a) Pierwszy Prezes KW
- b) Szef związku Przewodników
- c) Założyciel PZN
- d) Minister Sportu

10. Jakie zwierzęta zostały otoczone szczególną ochroną przez TT:

- a) Kozica i Świstak
- b) Żubr i Jeleń
- c) Niedźwiedź Brunatny
- d) Rys i Kuna

Pytanie 3 [12 pkt.]

Co znajdowało się na pieczęci PTK?

Pytanie 4 [24 pkt.]

Przyporządkuj podane daty do poniższych wydarzeń:
(1909,1873,1960,1950,1906,1975,1874,1935,)

WYDARZENIE	DATA
Założenie PTTK	
Powstanie AKT Lwów	
Założenie GTT	
Pierwsza Bacówka PTTK	
Utworzenie TOPR	
Otwarcie pierwszego schroniska TT w Tatrach	
Powstanie Oddziału Międzyuczelnianego PTTK w Warszawie	
Wyznakowanie GSB	



Pierwsza pomoc

Pytanie 1 [20 pkt.]

Po jakie służby zadzwonisz w następujących sytuacjach – podaj nazwę i numer:

Sytuacja	Służba
Widzisz pożar lasu.	
Widzisz schodzącą lawinę.	
Jesteś świadkiem wypadku dwóch aut osobowych.	
Widzisz przewracającą się żaglówkę.	

Pytanie 2 [39 pkt.]

Krótko opisz jak zachowasz się w następujących sytuacjach:

1. Prowadzisz 12 osobowy rajd, po Beskidach, latem. Podczas podejścia na szczyt zdarzył się wypadek i trzeba sprowadzić pomoc do poszkodowanego.
 - a. Jakie informacje podasz dyspozytorowi?

- b. Jeśli nie ma zasięgu to jakie znasz inne sposoby wezwania pomocy – wymień co najmniej 2.

- c. Widzisz nadlatujący śmigłowiec, jak się zachowasz?

Pytanie 3 [17 pkt.]

Podaj schemat resuscytacji osoby dorosłej.

Pytanie 4 [24 pkt.]

Opisz, co należy zrobić, aby uniknąć odmrożenia podczas zimowej wyprawy, a co aby uniknąć udaru słonecznego latem?

zima	lato



Egzamin na Organizatora Turystyki OM PTTK – 23.02.2016 r.

kod egzaminowanego



Geografia Turystyczna Polski

Pytanie 1 [50 pkt.]

1. Wymień 10 Szczytów z Korony Gór Polski i napisz w jakim paśmie się znajdują. [20 pkt.]

Lp.	Szczyt	Pasma
1.		
2.		
3.		
4.		
5.		
6.		
7.		
8.		
9.		
10.		

2. Wymień 10 obiektów Światowego Dziedzictwa UNESCO wraz z miastami / miejscowościami, w których się one znajdują [30 pkt.]

Lp.	Obiekt UNESCO [2 p.]	Miasto / Miejscowość [1 p.]
1.		
2.		
3.		
4.		
5.		
6.		
7.		
8.		
9.		
10.		



Pytanie 2 [20 pkt.]

Uzupełnij poniższy tekst:

Polska leży prawie w całości, bo w ponad 99%, w zlewisku morza

Dwie największe rzeki to i

Natomiast kilka rzek stanowi niewielki promil zlewisk innych mórz. Te morza to

..... oraz

Pytanie 3 [30 pkt.]

1. Uzupełnij poniższą tabelę o stolicę/e lub nazwę województwa [10 pkt.]

Województwo	Stolica
	Poznań
Podlaskie	
	Kielce
Lubuskie	
	Rzeszów

2. Podaj nazwy tych województw, które graniczą jedynie z innymi województwami. Innymi słowy, podaj nazwy województw, które nie przylegają do granicy Polski z innym państwem oraz nie leżą w bezpośredniej styczności z morzem Bałtyckim. [20 pkt.]



Przyroda i jej ochrona

Pytanie 1 [32 pkt.]

- a) Podaj 3 warunki pozwalające legalnie poruszać się w Polsce po parku narodowym poza wyznaczonymi szlakami turystycznymi. [9 pkt.]

--	--	--

- b) Opisz krótko wybrany Park Narodowy, charakteryzując ukształtowanie terenu, florę, faunę, atrakcje i zagospodarowanie turystyczne [15 pkt.]

--

- c) Przyporządkuj wymienionym parkom narodowym ich symbole : [8pkt]

1.	Kampinoski Park Narodowy	
2.	Drawieński Park Narodowy	
3.	Świętokrzyski Park Narodowy	
4.	Bieszczadzki Park Narodowy	

A	bóbr
B	ryś
C	łoś
D	jeleń

Pytanie 2 [32 pkt.] test wielokrotnego wyboru

- 1) Zaznacz gatunki zwierząt, które objęte są w Polsce ochroną gatunkową: [8 pkt]

- a. niedźwiedź brunatny b. żmija zygzakowata c. niepylak apollo d. pająk krzyżak

- 2) Gołoborza są charakterystyczne dla: [8pkt]

- a. Pojezierza Mazurskiego b. Gór Świętokrzyskich c. Rostocza d. Pomorza



3) Sztuczne wprowadzenie gatunku na teren, gdzie niegdyś występował, ale wyginął to: [8 pkt]

- a. biotenetop b. biocenoza c. ochrona ex situ d. reintrodukcja

Pytanie 3 [36 pkt.]

1. Wyjaśnij pojęcia i podaj po jednym przykładzie. [20 pkt]

rezerwat przyrody		
park krajobrazowy		
obszar ochrony ścisłej		
piętro roślinności		

2. Wymień 5 gatunków drzew występujących w polskich lasach. [10 pkt]

--	--	--	--	--

3. Z podanych definicji (na podstawie obowiązującej Ustawy o ochronie przyrody) wybierz tę, która opisuje park narodowy (zakreśl odpowiedni numer): [6 pkt]

- a) obszar umożliwiający migrację organizmów żywych
- b) obszar chroniony ze względu na walory przyrodnicze, historyczne, kulturowe i krajobrazowe w celu ich zachowania i popularyzacji w warunkach zrównoważonego rozwoju
- c) obszar krajobrazu naturalnego i kulturowego zasługujący na ochronę ze względu na walory widokowe lub estetyczne
- d) tworzony dla ochrony przyrody nieożywionej (formacji geologicznych, nagromadzeń skamieniałości)
- e) obszar wyróżniający się szczególnymi wartościami przyrodniczymi, naukowymi, społecznymi, kulturowymi i edukacyjnymi, o powierzchni nie mniejszej niż 1 000 ha, na którym ochronie podlega cała przyroda oraz walory krajobrazowe



Egzamin na Organizatora Turystyki OM PTTK – 23.02.2016 r.

kod egzaminowanego



Zagadnienia prawne w turystyce

Pytanie 1 [20 pkt.]

Jakie elementy powinno zawierać zgłoszenie imprezy?

Pytanie 2 [20 pkt.]

Jakie prawa ma wolontariusz OM PTTK (wymień co najmniej 4)?

Pytanie 3 [10 pkt.]

Opisz, jakie warunki muszą zostać spełnione, aby być objętym ubezpieczeniem NNW na wycieczce organizowanej przez Twoje koło?

Pytanie 4 [30 pkt.]

Krótko opisz jak zachowasz się w następujących sytuacjach:

1. Kierownik pociągu, którym jedziesz chce zarekwirować legitymację studencką uczestnika Twojego obozu, twierdząc, że jest podrobiona.

2. Nieumundurowany funkcjonariusz Policji Państwowej żąda okazania dokumentów tożsamości.

3. Jesteś na terenie Magurskiego Parku Narodowego na szlaku turystycznym i umundurowany Strażnik Parku żąda od Ciebie okazania legitymacji przewodnika górskiego.



Pytanie 5 [10 pkt.]

Wymień kraje, z którymi graniczy Polska, a które nie należą do strefy Schengen.

Pytanie 6 [10 pkt.]

W co powinna być wyposażona grupa, którą prowadzisz, jeśli planujesz iść po zmierzchu drogą gminną poza obszarem zabudowanym?

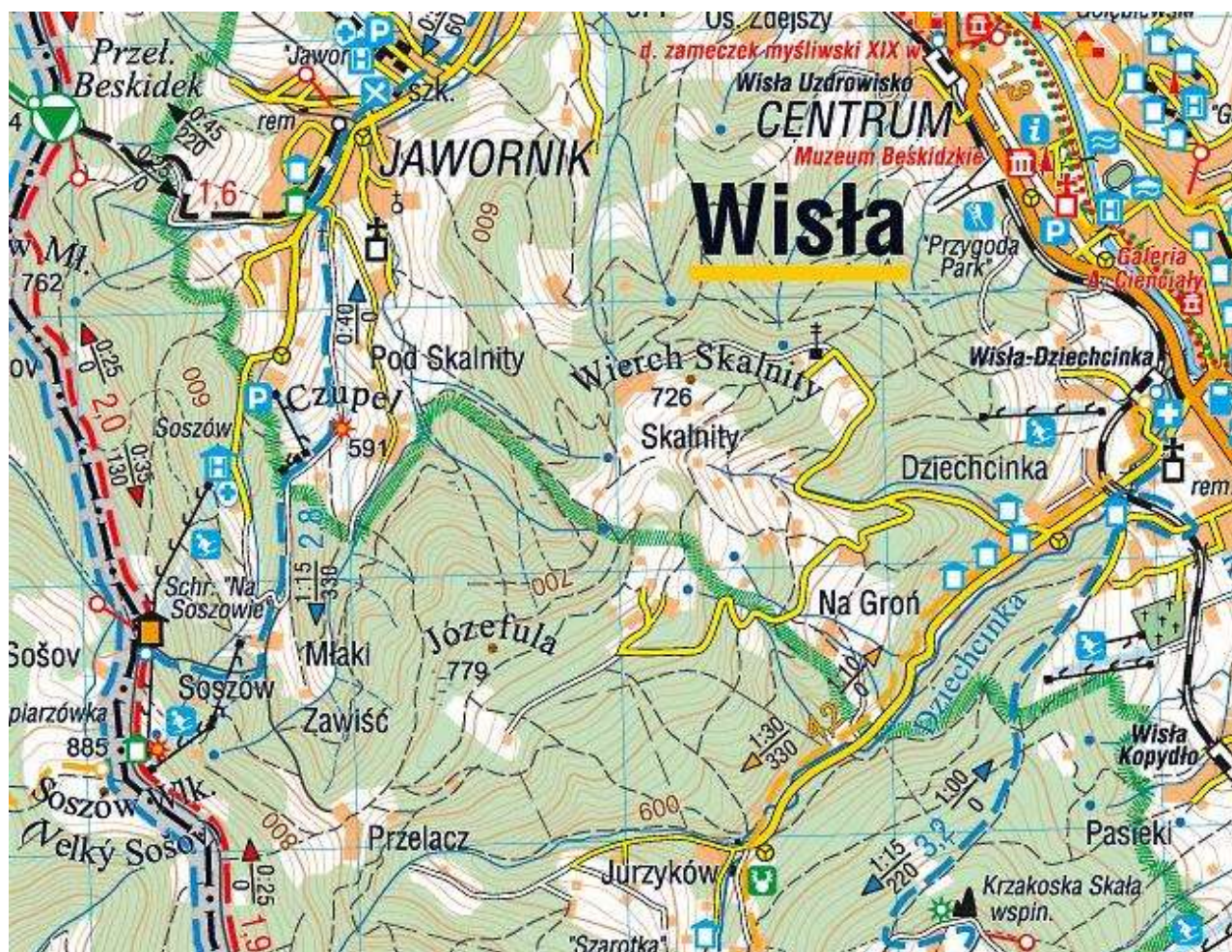


Terenoznawstwo

Pytanie 1 [50 pkt.]

Mając do dyspozycji fragment mapy jak poniżej odpowiedz na poniższe pytania.

1.	Podaj nazwę i wysokość n.p.m. najwyższego punktu na mapie [5pkt.]	
2.	Podaj 3 możliwości noclegowe na obszarze mapy [5 pkt.]	
3.	Podaj azymut i odległość z przystanku w Jurzykowie do stacji Wisła Kopydło [20 pkt.]	
4.	Podaj odległość przejścia (km) i sumę podejść (m) szlakami z Przełęczy Beskidek przez Czupel do schroniska „Na Soszowie” oraz oszacuj czas przejścia [15 pkt.]	
5.	Wymień 3 rodzaje turystyki kwalifikowanej, które można uprawiać na obszarze mapy [5 pkt.]	



**Pytanie 2 [20 pkt.]**

Ilu stopniom odpowiada podany kierunek?

S	
NNW	

W	
SE	

Pytanie 3 [15 pkt.]

Podaj 3 najbardziej użyteczne w Polsce sposoby odnalezienia północy w terenie bez użycia kompasu ani innych urządzeń służących do nawigacji! (5 pkt. za każdą prawidłową odpowiedź)

Pytanie 4 [15 pkt.]

Wypełnij poniższą tabelę: (5 pkt. za każdą prawidłową odpowiedź)

	<i>Skala mapy</i>	<i>Odległość na mapie</i>	<i>Odległość w terenie</i>
<i>a)</i>	<i>1 : 10 000</i>		<i>1250 m</i>
<i>b)</i>		<i>8 cm</i>	<i>2 km</i>
<i>c)</i>	<i>1 : 50 000</i>	<i>25 mm</i>	